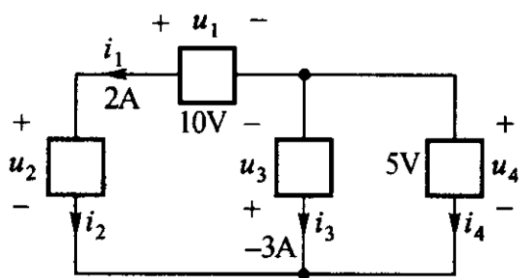
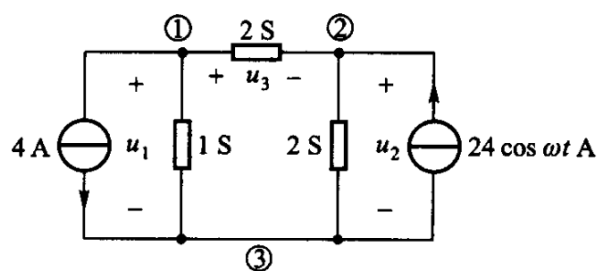


题 1



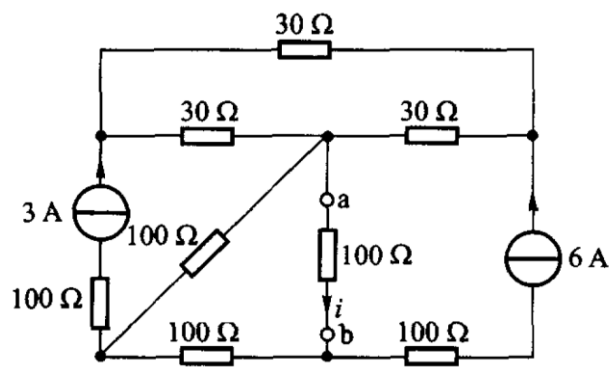
图中每个元件吸收的功率是多少？

题 2



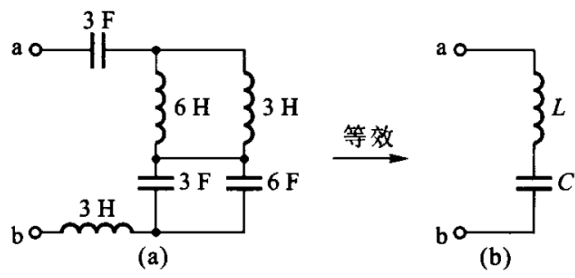
用支路电压法求 u_1 u_2 u_3 .

题 3



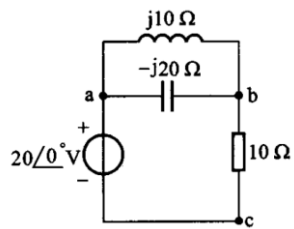
分别利用戴维南定理和诺顿定理求解 i 。

题 4



已知图 a 和图 b 等效，求 b 中 L 和 C 的值

题 5



用图画电压相量 U_{ab} 和 U_{bc} 。