

《大学物理(上)》小测验(第一章)

共 5 页

2023 年 9 月

班级	学号	07	姓名	张斌
题号	一	二	三	总分
得分	15	20	16	86

一、选择题(每空 5 分, 共 25 分)

1、一飞机相对空气的速度大小为 200 km/h, 风速为 56 km/h, 方向从西向东, 地面雷达站测得飞机速度大小为 192 km/h, 方向是。

- (A) 南偏西 16.3° (B) 北偏东 16.3°
(C) 向正南或向正北 (D) 西偏北 16.3° (E) 东偏南 16.3°

2、一质点在 Oxy 平面内运动, 其运动学方程为 $x=2t$ 和 $y=19-2t^2$ (SI), 则在第 2 秒末的瞬时速度大小

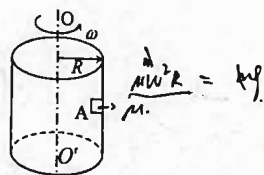
- (A) 6.32 m/s (B) 8.25 m/s (C) 5 m/s (D) 6 m/s

3、对于沿曲线运动的物体, 以下几种说法中哪一种是正确的:

- (A) 切向加速度必不为零。
(B) 法向加速度必不为零(拐点处除外)。
(C) 由于速度沿切线方向, 法向分速度必为零, 因此法向加速度必为零。
(D) 若物体作匀速率运动, 其总加速度必为零。
(E) 若物体的加速度为恒矢量, 它一定作匀变速率运动。

4、如图所示, 竖立的圆筒形转笼, 半径为 R , 绕中心轴 OO' 转动, 物块 A 紧靠在圆筒的内壁上, 物块与圆筒间的动摩擦系数为 μ , 要使物块 A 不下落, 圆筒的角速度 ω 至少应为

- (A) $\sqrt{\mu g/R}$; (B) $\sqrt{\mu g}$; (C) $\sqrt{g/(\mu R)}$; (D) $\sqrt{g/R}$



5、在升降机天花板上拴有轻绳, 其下端系一重物, 当升降机以加速度 a_1 上升时, 绳中的张力正好等于绳子所能承受的最大张力的一半, 问升降机以多大加速度上升时, 绳子刚好被拉断?

- (A) $2a_1$. (B) $2(a_1+g)$. (C) $2a_1+g$. (D) a_1+g .

二、填空题(25 分)

1、(6 分) 一飞行火箭的运动学方程为 $x=ut+u(\frac{1}{b}-t)\ln(1-bt)$, 其中 b 是与燃料燃烧速率有关的量, u 为燃气相对火箭的喷射速度。火箭飞行速度与时间的关系: $v = u \ln \frac{1}{1-bt}$ 火箭的加速度: $a = \frac{ub}{1-bt}$

2、(9 分) 一质点沿半径为 1 m 的圆周运动, 运动方程为 $\theta = 2+3t^3$, 式中 θ 以弧度计, t 以秒计。 $t=2$ s 时, 质点的切向加速度 36 m/s^2 ; 法向加速度 1296 m/s^2 ; 角加速度 36 rad/s^2

3、(5 分) 跳水运动员自 10 m 跳台自由下落, 入水后因受水的阻碍而减速, 设阻力加速度 $a = -kv^2$, $k = 0.4 \text{ m}^{-1}$ 。重力和浮力抵消, 忽略运动员身高, 当运动员速度减为入水速度的 10% 时, 入水深度为 $\frac{1}{2} \ln 10 \text{ m}$

4、(5 分) 距河岸(看成直线) L (m) 处有一艘静止的船, 船上的探照灯以转速为 n (r/min) 转动。当光束与岸边成 θ 角时, 光束沿岸边移动的速度大小 $v = \frac{2\pi n L}{60} \text{ (m/min)}$

常用导数表

- | | |
|---------------------------------------|-----------------------------------|
| (1) $(C)' = 0$ | (7) $(x^n)' = nx^{n-1}$ |
| (2) $(\sin x)' = \cos x$ | (8) $(\cos x)' = -\sin x$ |
| (3) $(\tan x)' = \sec^2 x$ | (9) $(\cot x)' = -\csc^2 x$ |
| (4) $(\sec x)' = \sec x \tan x$ | (10) $(\csc x)' = -\csc x \cot x$ |
| (5) $(a^x)' = a^x \ln a$ | (11) $(e^x)' = e^x$ |
| (6) $(\log_a x)' = \frac{1}{x \ln a}$ | (12) $(\ln x)' = \frac{1}{x}$ |

常用积分表

- | | |
|--|--|
| (1) $\int k dx = kx + C$ (k 是常数) | (5) $\int \frac{dx}{\sqrt{1-x^2}} = \arcsin x + C$ |
| (2) $\int x^u dx = \frac{x^{u+1}}{u+1} + C, (u \neq -1)$ | (6) $\int \cos x dx = \sin x + C$ |
| (3) $\int \frac{1}{x} dx = \ln x + C$ | (7) $\int \sin x dx = -\cos x + C$ |
| (4) $\int \frac{dx}{1+x^2} = \arctan x + C$ | (8) $\int e^x dx = e^x + C$ |
| | (9) $\int a^x dx = \frac{a^x}{\ln a} + C, (a > 0, \text{且 } a \neq 1)$ |

三、计算题(共 50 分)

1. (16 分) 一质点以初速度 v_0 作直线运动, 所受阻力与其速度的三次方成正比, 试求:

(1) 质点速度随时间的变化规律; (2) 速度随位置的变化规律。

1) \vec{v}
 $f = -kv^3$

$a = v'$
 $a = -kv^3$ 设 \vec{v} 为初速 v_0 方向

$a = \frac{dv}{dt} \therefore -kv^3 = \frac{dv}{dt} \therefore \int_0^t -k dt = \int_{v_0}^v \frac{dv}{v^3}$
 $-kt = -\frac{1}{2v^2} + \frac{1}{2v_0^2}$
 $\frac{1}{2v^2} = \frac{1}{2} = \frac{kt}{v_0^2} + \frac{1}{2v_0^2}$
 $v^2 = \frac{1}{2kt + \frac{1}{v_0^2}}$

$v = \frac{1}{\sqrt{2kt + \frac{1}{v_0^2}}} = \frac{v_0}{\sqrt{2ktv_0^2 + 1}}$
 $\vec{v} = \frac{v_0}{\sqrt{2ktv_0^2 + 1}} \vec{v}_0$

2) $\frac{a}{v} = \frac{dv}{dx}$ 设初始位置为 x_0

$\therefore \frac{-kv^3}{v} = -kv^2 = \frac{dv}{dx}$
 $\therefore \int_{x_0}^x -k dx = \int_{v_0}^v \frac{dv}{v^2}$

$-k(x-x_0) = -\frac{1}{v} \Big|_{v_0}^v = -\frac{1}{v} + \frac{1}{v_0}$

$x - x_0 = \frac{1}{kv} - \frac{1}{kv_0}$
 $x - x_0 = \frac{1}{kv} - \frac{1}{kv_0}$
 $x - x_0 = \frac{1}{kv} - \frac{1}{kv_0}$

$v = \frac{1}{\frac{1}{v_0} + k(x-x_0)} = \frac{v_0}{1 + kv_0(x-x_0)}$

2. (16 分) 光滑的水平桌上放置一固定的半径为 R 的圆环带, 一物体贴着环内侧运动, 物体与环带间的滑动摩擦系数为 μ , 设物体在某一时刻经过 A 点的速率为 v_0 , 求此后 t 时刻物体的速率和走过的路程。



$a_t = \frac{\mu \cdot F_N}{m} = \frac{\mu \cdot m \frac{v^2}{R}}{m} = -\frac{\mu v^2}{R}$

$a_t = \frac{dv}{dt}$

$\therefore -\frac{\mu v^2}{R} = \frac{dv}{dt}$

$\int_0^t -\frac{\mu}{R} \cdot dt = \int_{v_0}^v \frac{dv}{v^2}$

$\therefore -\frac{\mu}{R} t = -\frac{1}{v} \Big|_{v_0}^v = -\frac{1}{v} + \frac{1}{v_0}$

$\therefore \frac{1}{v_0} + \frac{\mu}{R} t = \frac{1}{v}$

$\therefore v = \frac{1}{\frac{1}{v_0} + \frac{\mu}{R} t} = \frac{v_0 R}{R + \mu v_0 t}$

$v = \frac{dx}{dt}$

$\int_0^x dx = \int_0^t v \cdot dt$

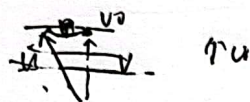
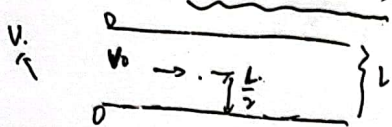
$\therefore \frac{dx}{dt} = v$

$x = \int_0^t \frac{v_0 R}{R + \mu v_0 t} dt$

$= \frac{R}{\mu} \ln(R + \mu v_0 t) \Big|_0^t$

$= \frac{R}{\mu} \ln \frac{R + \mu v_0 t}{R}$

3、(18分) 一条河宽度为 L ，水的流速与离岸的距离成正比，河中心流速最大为 v_0 ，两岸处流速为零。一船以恒定的相对于水的速率 u 垂直于水流从一岸驶向另一岸，当船驶至河宽的三分之一处时有事又返回本岸，求船驶向对岸的轨迹和返回本岸的地点。



$$U = \sqrt{u^2 - v^2}, \text{ 垂直于岸.}$$

$$a = \frac{dv}{dt}, \quad v = \frac{dx}{dt}$$

$$\frac{dx}{dt} = U = \sqrt{u^2 - v^2}$$

$$\therefore \int_0^x dx = \int_0^t \sqrt{u^2 - v^2} dt$$

而水流速 $v = \frac{x}{L} \cdot v_0 = \frac{2x}{L} v_0$

$$t_1 = \frac{L}{2v_0}$$

$$t_2 = \frac{2L}{3v_0}$$

$$\therefore x = \int_0^t \sqrt{u^2 - v^2} dt$$

\therefore 轨迹

返回地点